

## Олимпиадная работа

по технологии  
(предмет)

ученика(цы) № А класса МБОУ «Школа № 50»

ФИО ученика (полностью) Андреевой Дианы Денисовны

ФИО учителя (полностью) Саморокова Татьяна Викторовна

**ШКОЛЬНЫЙ ЭТАП  
ВСЕРОССИЙСКОЙ ОЛИМПИАДЫ ШКОЛЬНИКОВ  
ПО ТЕХНОЛОГИИ**

2021/2022 учебный год

7 класс

Код участника: 188  
081041

1. О каком понятии идёт речь в тексте? «\_\_\_\_\_ объединяет устройства в компьютерную сеть и позволяет им собирать, анализировать, обрабатывать и передавать данные другим объектам через программное обеспечение, приложения или технические устройства. Это сеть сетей, в которой люди могут общаться с устройствами, а устройства могут общаться между собой, реагировать на изменение окружения и принимать решения без участия человека» Выберите один правильный ответ.


- а) цифровая экономика;
- б) дополненная реальность;
- в) виртуальная реальность;
- г) интернет вещей.

2. Эта бытовая техника становится всё более популярной. Как она называется? Выберите один правильный ответ.

- а) электроплитка;
- б) робот-пылесос;
- в) кофемашина;
- г) плеер.



3. В наше время часто используется выращивание растений без почвы в водном питательном растворе. Преимущества этого метода следующие: растения питаются раствором, который насыщен минеральными веществами; быстро растут и дают хороший урожай; существует возможность выращивания экологически чистых плодов; экономится пространство, материалы, вода; отсутствуют грызуны; выращивание может быть круглогодичным. Как называется этот метод?



Ответ: \_\_\_\_\_


4. В какой сфере услуг используется данное оборудование?

- а) общественное питание;
- б) химчистка;
- в) ателье;
- г) транспорт.



5. Выберите из списка профессий ту, представитель которой использует оборудование, изображённое на рисунке.

- а) повар;
- б) скульптор;
- в) дизайнер;
- г) кондитер.



6. В каких продуктах присутствует большое количество йода?

морская капуста

7. Отметьте: буквой «И» - истинное утверждение, буквой «Л» - ложное утверждение:

- 1. Крупные крупы можно заранее замачивать **И**
- 2. Крупу засыпают только в кипящую жидкость **Л**
- 3. Варить каши лучше в кастрюле с толстым дном **И**
- 4. Кашу надо варить под крышкой **И**
- 5. Солить лучше почти готовую кашу. **И**

8. Напишите, какие продукты производят из молока (не менее 6)

сыры, кефир, йогурт, сметана, сливки, простокваша

9. Банку какого объёма нужно взять для заготовки на зиму сока, отжатого из 3 кг вишни? Известно, что из 10 кг вишни получается 6,5 литров сока.


- А) 0,5л;      б) 1л;      в) 2л;      г) 3л.

10. Шелковые нити получают из: (отметьте знаком + правильный ответ)

- + а) коконов непарного шелкопряда;
- б) плодов шековицы;
- в) смолы;
- г) паутины тропических пауков.

11. Асе купили новые босоножки, на которых был такой значок.

- а) натуральная кожа;
- б) синтетические материалы;
- в) текстиль;
- г) кожа с покрытием.



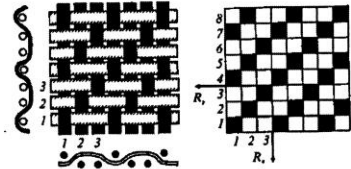
12. Установите соответствие:

Операция	
1. Прокалывает ткань, проводит через него нитку и преобразует из верхней нитки петлю	а) рейка;
2. Перемещает ткань	б) игла;
3. Прижимает ткань к игольной пластине	в) челнок;
4. Захватывает петлю иглы, осуществляет переплетение верхней и нижней нити	г) лапка.

1-.....б).....2-.....в).....3-.....г).....4-.....а).....

13. Долевая нить ткани при раскладке выкройки платья располагается:  
 (отметьте знаком + правильный ответ)  
 а) по длине платья;  
 + б) по ширине платья;  
 в) по диагонали;  
 г) не имеет значения.

14. Вставьте пропущенное слово. Одна законченная часть рисунка переплетения, при повторении которой получается непрерывный рисунок в направлении основы и утка, называется \_\_\_\_\_ переплетения.



15. Установите соответствие между названиями швов и их изображениями:

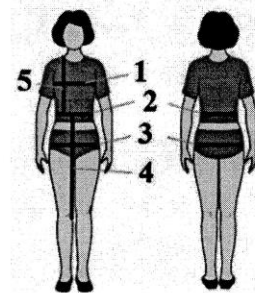
- а. накладной;  
 б. обтачной;  
 в. стачной;  
 г. шов в подгибку с открытым срезом.



1 б., 2 а., 3 г., 4 в.

16. Установите соответствие между мерками, обозначенными цифрами на рисунке, и их названиями.

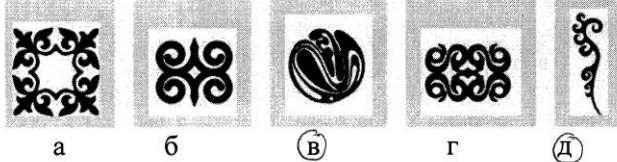
№	Название мерки
2	Дтс
5	Ст
	Сб
	Ди
	Дтп



2- Дтс, 5- Ст.

17. Себестоимость изделия определяется:  
 а. затратами на материал;  
 б. расходами на оплату труда;  
 в. оплатой за электроэнергию;  
 г. всем выше перечисленным.

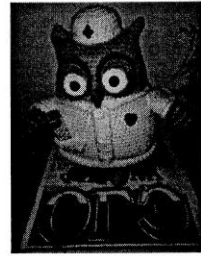
18. Из предложенных рисунков выберите те, на которых изображены фигуры, не имеющие осей симметрии. Выберите все правильные ответы.



а б в г д

19. В какой технике выполнено изделие, изображённое на рисунке?

- а) Кунисайга;
- б) Вязание крючком;
- в) Квиллинг;
- г) вязание спицами.



20. Из рисунков, на которых изображена одежда, выберите соответствующий моде 50-х годов XX века.

