

Олимпиадная работа

по технологии
(предмет)

ученика(цы) 5 Б класса МБОУ «Школа № 50»

ФИО ученика (полностью) Калаленко Мария Александровна

ФИО учителя (полностью) Саморохова Татьяна Викторовна

**ШКОЛЬНЫЙ ЭТАП
ВСЕРОССИЙСКОЙ ОЛИМПИАДЫ ШКОЛЬНИКОВ
ПО ТЕХНОЛОГИИ**

2021/2022 учебный год

5 класс

Код участника: 081054

1. Расположите в порядке изобретения



1 Велосипед, 2 Компьютер, 3 Самолёт

2. Интерьер - это...

- а) помещение, где готовят пищу;
- б) внутренний вид и оформление помещения;
- в) зона в кухне, предназначенная для приготовления пищи;
- г) зона в кухне, предназначенная для приема пищи;

3. Выполнение проекта начинается:

- а) со сбора информации для выполнения проекта;
- б) с формулировки задач;
- в) с выдвижения идей для выполнения проекта;
- г) с формулировки проблемы и требований к изделию.

4. Из представленных блюд, выберите те, которые диетологи рекомендуют подавать к завтраку и поставьте +



а +

б

в

г +

д

5. По виду продукта бутерброды могут быть:

(отметьте знаком + правильные ответы)

- а) рыбные;
- б) соленые;
- в) мясные;
- г) ажурные.

1 6. Отгадайте загадку.

Весной он клубнями сажается,
Растёт, цветёт, затем, копается,
Обычно долго сохраняется.

Как этот овощ называется? картофель


0 7. Какова родина этого овоща?

а) Африка; б) Америка в) Европа г) Австралия

0 8. Перечислите 5 блюд, в состав которых входит этот овощ

запеченный картофель, картофель с мясом,

9. Покажите полотняное переплетение с помощью двух цветов, напишите названия нитей в данном переплетении.





1 10. Работа художника-модельера заключается:

- +а) создание эскиза изделия;
- б) построение выкройки;
- в) раскрой изделия.


2 11. Для изготовления тряпичной куклы «Хороводницы» ученица использовала различные материалы и инструменты. Что из перечисленного является материалами? (отметьте знаком + все правильные ответы)

- +а) ткань;
- +б) ножницы;
- +в) нитки;
- +г) круг - шаблон;
- +д) палочка;
- е) карандаш;
- ж) игла.



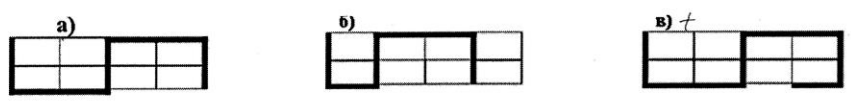
2 12. Какое изделие можно изготовить из материалов из предыдущего задания? (отметьте знаком + все правильные ответы)

081054




13. Отметь знаком «+» правильный ответ. Техника оклеивания формы кусочками мягкой бумаги в несколько слоёв называется:
а) квиллинг;
б) кракле;
+в) оригами;
г) папье-маше.

14. Отметь знаком «+» правильный ответ:
На уроке технологии ученица использовала следующий алгоритм из стрелок для орнамента вышивки: ↓↓→→↑↑→→↓↓ Какой рисунок у нее получился?



15. У Марины есть салфетка прямоугольной формы размером 60×30 см. Девочка решила украсить её кисточками по ширине, расположив кисточки на расстоянии 1 см одна от другой, первая и последняя кисточки украшают углы салфетки. Сколько кисточек нужно сделать Марине?



Ответ: 62