

081051

Олимпиадная работа

по технологии
(предмет)

ученика(цы) 5 класса МБОУ «Школа № 50»

ФИО ученика (полностью) Зарице Елизавета Дмитриевна

ФИО учителя (полностью) Саморокова Татьяна Викторовна

**ШКОЛЬНЫЙ ЭТАП
ВСЕРОССИЙСКОЙ ОЛИМПИАДЫ ШКОЛЬНИКОВ
ПО ТЕХНОЛОГИИ**

2021/2022 учебный год

5 класс

138

Код участника: 081057

1. Расположите в порядке изобретения



1 Велосипед, 2 компьютер, 3 Самолёт

2. Интерьер - это...

- а) помещение, где готовят пищу;
- б) внутренний вид и оформление помещения;
- в) зона в кухне, предназначенная для приготовления пищи;
- г) зона в кухне, предназначенная для приема пищи;

3. Выполнение проекта начинается:

- а) со сбора информации для выполнения проекта;
- б) с формулировки задач;
- в) с выдвижения идей для выполнения проекта;
- г) с формулировки проблемы и требований к изделию.

4. Из представленных блюд, выберите те, которые диетологи рекомендуют подавать к завтраку и поставьте +



5. По виду продукта бутерброды могут быть:

(отметьте знаком + правильные ответы)

- а) рыбные; +
- б) соленые;
- в) мясные; +
- г) ажурные.

1 6. Отгадайте загадку.

Весной он клубнями сажается,
Растёт, цветёт, затем, копается,
Обычно долго сохраняется.

Как этот овощ называется? картофель



0 7. Какова родина этого овоща?

а) Африка; б) Америка в) Европа г) Австралия

0 8. Перечислите 5 блюд, в состав которых входит этот овощ

суп, пюре, салат,

0 9. Покажите полотняное переплетение с помощью двух цветов, напишите названия нитей в данном переплетении.



1 10. Работа художника-модельера заключается:

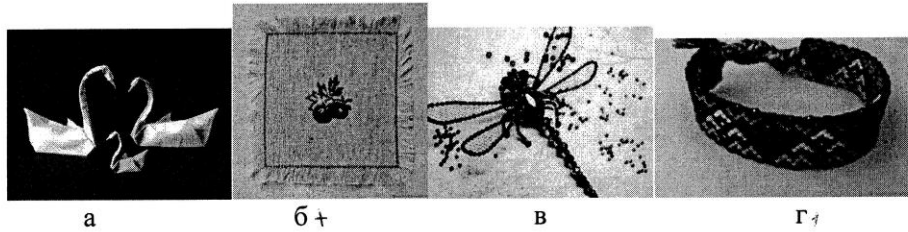
- а) создание эскиза изделия;
б) построение выкройки;
в) раскрой изделия.

2 11. Для изготовления тряпичной куклы «Хороводницы» ученица использовала различные материалы и инструменты. Что из перечисленного является материалами? (отметьте знаком + все правильные ответы)

- а) ткань; +
б) ножницы; +
в) нитки; +
г) круг - шаблон;
д) палочка; +
е) карандаш; +
ж) игла. +

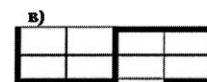
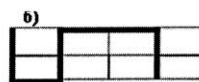



2 12. Какое изделие можно изготовить из материалов из предыдущего задания? (отметьте знаком + все правильные ответы)




13. Отметь знаком «+» правильный ответ. Техника оклеивания формы кусочками мягкой бумаги в несколько слоёв называется:
- а) квиллинг;
 - б) кракле;
 - в) оригами;
 - г) папье-маше.

14. Отметь знаком «+» правильный ответ:
На уроке технологии ученица использовала следующий алгоритм из стрелок для орнамента вышивки: $\downarrow\downarrow\rightarrow\rightarrow\uparrow\uparrow\rightarrow\rightarrow\downarrow\downarrow$ Какой рисунок у нее получился?



15. У Марины есть салфетка прямоугольной формы размером 60×30 см. Девочка решила украсить её кисточками по ширине, расположив кисточки на расстоянии 1 см одна от другой, первая и последняя кисточки украшают углы салфетки. Сколько кисточек нужно сделать Марине?



Ответ: 20