

211062

Олимпиадная работа

по истории
(предмет)

ученика(цы) 6А класса МБОУ «Школа № 50»

ФИО ученика (полностью) Баложуровой Валерии Романовны

ФИО учителя (полностью) Михина Ольга Игоревна

211062

**ШКОЛЬНЫЙ ЭТАП
ВСЕРОССИЙСКОЙ ОЛИМПИАДЫ ШКОЛЬНИКОВ
ПО ИСТОРИИ
2021/2022 учебный год**

**Задания
6 класс**

Максимальное количество – 70 баллов.

Время выполнения – 60 минут.

1. Выберите один верный вариант ответа (1б. за каждый правильный ответ на вопрос, 5 баллов за все задание №1) Ответы запишите в таблицу:

26

1.1. В каком году Карл Великий был провозглашен императором?

- 1) в 780 г.
- 2) в 910 г.
- 3) в 800 г.
- 4) в 810 г.

1.2. Как называется работа крестьянина на поле или в хозяйстве феодала:

- 1) оброк;
- 2) барщина;
- 3) натуральное хозяйство;
- 4) дань

1.3. Высказывание Н.М.Карамзина: «Сей князь, названный Церковью Равноапостольным, заслуживает в истории имя Великого» — посвящено

- 1) Святославу
- 2) Владимиру
- 3) Ярославу Мудрому
- 4) Владимиру Мономаху

1.4. Литературный памятник XII в., в котором содержался призыв к прекращению княжеских усобиц:

- 1) «Слово о полку Игореве»
- 2) «Домострой»
- 3) «Слово о погибели земли Русской»
- 4) «Поучение детям»

1.5. Как назывались записи по годам событий в XI – XVI вв. на Руси?

- 1) летопись
- 2) былины
- 3) хроники
- 4) сказы

Ответы:

1.1.	1.2.	1.3.	1.4.	1.5.
1	2	2	4	1

2. Выберите несколько верных вариантов ответа (2 б. за каждый правильный ответ на вопрос (при неверных элементах ответа –0 б.) 6 баллов за все задание №2) Ответы запишите в таблицу:

2.1. Какие из перечисленных ниже понятий относятся к искусству живописи:

- 1) притвор;
- 2) алтарь;
- 3) фреска;
- 4) икона;
- 5) мозаика.

2.2. Что из перечисленного относится к снаряжению рыцаря:

- | | |
|--------------|------------|
| 1) латы; | 4) турнир; |
| 2) кольчуга; | 5) герб. |
| 3) забрало; | |

2.3. Выделите имена богов восточных славян:

- | | |
|------------|------------|
| 1) Перун; | 4) Велес; |
| 2) Макошь; | 5) Донара. |
| 3) Дионис; | |

Ответы:

2.1	3, 4, 5
2.2	1, 2, 3
2.3	1, 3

20
20

3. По какому принципу построен ряд? (до 2 баллов за каждый ряд (в зависимости от полноты и точности ответов), всего за ответ 4 балла)

- 3.1. закупы, рядовичи, смерды, челядь.
- 3.2. вятичи, кривичи, поляне, ильменские словене

Ответ 3.1. _____

Ответ 3.2 Европейские словене

4. Исключите лишнее понятие. Поясните свой выбор. (до 2 баллов за каждый правильный ответ, максимальный балл – 4)

- 4.1. поляки, чехи, сербы, словаки.
- 4.2. р. Ловать, р. Днепр, р. Нева, р. Дунай.

Ответ 1: Лишнее понятие

Пояснение:

Ответ 2: Лишнее понятие _____

Пояснение: _____

5. Расставьте события в хронологической последовательности (2 балла за каждую последовательность, при частично правильной последовательности – 1 балл, максимальный балл за всё задание – 4 балла) Ответы запишите в таблицу:

5.1. Расставьте в хронологической последовательности правителей Древнерусского государства:

1) Олег; 2) Святослав; 3) Игорь; 4) Ольга.

5.2. Расставьте события в хронологической последовательности:

1) падение Западной Римской империи 2) разделение христианской церкви на католическую и православную; 3) Каролингское возрождение; 4) образование Арабского государства.

Ответы:

5.1.	1, 4, 3, 2
5.2.	1, 3, 2, 4

20
08

6. Выполните задания на соотнесение(за каждое правильно выполненное задание – 2б, одна ошибка – 1 б, всего – 6 б. Ответы запишите в таблицу):

6.1. Соотнесите имя правителя и факт его правления

Имя правителя	Факт правления
А) Юстиниан	1) введение уроков и погостов
Б) Хлодвиг	2) покорение саксов
В) Святослав	3) разгром Хазарского каганата
Г) Альфред Великий	4) приказал составить первый общенглийский сборник законов
Д) княгиня Ольга	5) издание «Свода гражданского права»
	6) объединение Киева и Новгорода

6.2. Соотнесите термин и его определение:

Термин	Определение
А) Проповедь	1) Сложный узор, созданный на основе математического расчета.
Б) Арабеска	2) Роспись, выполненная на стене или потолке храма по сырой штукатурке.
В) Монастырь	3) Местопребывание монахов, комплекс зданий, обнесенных высокой стеной.
	4) Речь на религиозно-нравственную тему.

6.3. Соотнесите даты и события

Даты	События
А) 500 г.	1) крещение Руси
Б) 862 г.	2) призвание варягов на Русь
В) 988 г.	3) образование Франкского государства
	4) образование Священной Римской империи

Ответы:

6.1.	А	Б	В	Г	Д
	2	4	5	3	6
6.2.	А	Б	В		
	4	1	3		
6.3.	А	Б	В		
	2 ← → 3	1			

25

10

7. Вставьте пропуски в текст (Каждый правильно вставленный термин – 1 балл, максимальное количество баллов – 10 б.):

В X – XII вв. увеличилась численность городов. Население городов составляли торговцы и __ (1) __. Где бы ни возникал город, он оказывался на земле короля или другого феодала, монастыря, т.е. __ (2) __. Города стремились к самоуправлению и создавали выборный городской совет. Глава городского совета в Англии и Франции назывался __ (3) __. На рыночной площади горожане сооружали __ (4) __ - здание городского совета.







Городские ремесленники производили свои изделия в маленьких мастерских. Хозяином и главным работником мастерской был __ (5) __. Ему помогали __ (6) __ - работник уже изучивший ремесло, за свой труд получал заработную плату. Он должен был выдержать трудный экзамен: на собственные средства изготовить __ (7) __ - лучший образец изделия.

Мастера-ремесленники одной специальности одной специальности, проживавшие в одном городе, часто объединялись в союзы - __ (8) __. Правила, обязательные для всех членов союза ремесленников, назывались __ (9) __. Избираемые мастерами __ (10) __ следили за соблюдением созданных правил и наказывали нарушителей.

1	ремесленники	6	
2	князь	7	
3		8	
4		9	
5		10	

8. Задание с иллюстрациями (Каждое верное соотнесение – 2 балла, максимально – 12 б.).

Перед тобой изображения значимых событий истории. Соотнесите иллюстрацию и историческое событие.

	
1	2
	
3	4
	
5	6

Историческое событие	Порядковый номер иллюстрации
Казнь Жанны д'Арк	6
Коронование Карла Великого	5
Крестовые походы	3
Крещение Руси	1
Поход князя Олега на Константинополь в 907 г.	2
Призвание варягов	4

120

9. Задание на анализ карты (максимально - 7 б.)



9.1. Разделу какого государства посвящена карта? (1 б.)

9.2. В каком году был раздел? (1 б.)

9.3. Начало истории какого государства положило образование Западно-франкской империи? (2 б.)

9.4. Как называется период в истории, начало которому было положено данным разделом? (1 б.) Дайте определение данному периоду (2 б.).

10. Задание по краеведению. Соотнеси изображение памятника с именем исторического деятеля, чья жизнь связана с рязанским краем (8 б.). Укажи имя любой из представленных в памятнике исторической личности и приведи не менее двух фактов о его жизни/деятельности (4 б.) (Максимально за задание – 12 баллов)

Изображение памятников			
1		2	
3		4	

Имя исторического деятеля	Номер изображения памятника
Есенин А.С.	2
Павлов И.П.	3
Полетаев Ф.А.	4
Скобелев М.Д.	1

25

Всего – 8 баллов.

Имя исторического деятеля (16.) Есенин А.С.

Факты его жизни/деятельности (46.) Он был писателем, выросшим в селе Константиновом. Есенин писал прекрасные стихи, часто вместе с другими писателями из разных городов.

Всего – 70 баллов